












Räkna siffrorna 1 till 10

namn: _____

Datum: _____ Poäng: _____

	$=$	
	$=$	
	$=$	
	$=$	
	$=$	
	$=$	
	$=$	
	$=$	
	$=$	
	$=$	



Räkna siffrorna 1 till 10

namn: _____

Datum: _____ Poäng: _____

	=	5
	=	1
	=	9
	=	2
	=	4
	=	8
	=	3
	=	6
	=	10
	=	7