



Contando os números 1 a 5

Nome: _____

Encontro: Data: _____ Pontuação: _____











	==	
	==	
	==	
	==	
	==	
	==	
	==	
	==	
	==	
	==	



Contando os números 1 a 5

Nome: _____

Encontro: Data: _____ Pontuação: _____

	=	5
	=	1
	=	2
	=	4
	=	3
	=	1
	=	5
	=	1
	=	3
	=	1