























Addisjon opptil 5(bilder)

Navn: _____

Dato: _____ Poeng: _____

 1	+	 4	=	
 3	+	 2	=	
 2	+	 1	=	
 1	+	 2	=	
 1	+	 1	=	
 2	+	 1	=	
 1	+	 4	=	
 1	+	 3	=	
 3	+	 2	=	
 3	+	 1	=	



Addisjon opptil 5(bilder)

Navn: _____

Dato: _____ Poeng: _____

 1	+	 4	=	5
 3	+	 2	=	5
 2	+	 1	=	3
 1	+	 2	=	3
 1	+	 1	=	2
 2	+	 1	=	3
 1	+	 4	=	5
 1	+	 3	=	4
 3	+	 2	=	5
 3	+	 1	=	4