







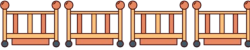















Addisjon opptil 10(bilder)

Navn: _____

Dato: _____ Poeng: _____

 8	+	 2	=	
 5	+	 1	=	
 3	+	 3	=	
 2	+	 6	=	
 4	+	 5	=	
 5	+	 3	=	
 3	+	 2	=	
 2	+	 4	=	
 6	+	 2	=	
 3	+	 4	=	



Addisjon opptil 10(bilder)

Navn: _____

Dato: _____ Poeng: _____

 8	+	 2	=	10
 5	+	 1	=	6
 3	+	 3	=	6
 2	+	 6	=	8
 4	+	 5	=	9
 5	+	 3	=	8
 3	+	 2	=	5
 2	+	 4	=	6
 6	+	 2	=	8
 3	+	 4	=	7