



Contar números del 1 al 5

Nombre: _____

Fecha: _____ Puntuación: _____









	$=$	
	$=$	
	$=$	
	$=$	
	$=$	
	$=$	
	$=$	
	$=$	
	$=$	
	$=$	



Contar números del 1 al 5

Nombre: _____

Fecha: _____ Puntuación: _____

	=	3
	=	1
	=	2
	=	1
	=	5
	=	1
	=	4
	=	1
	=	2
	=	3